

ΑΠΟΛΥΤΗΡΙΕΣ ΕΞΕΤΑΣΕΙΣ
Γ' ΤΑΞΗΣ ΕΝΙΑΙΟΥ ΛΥΚΕΙΟΥ
ΤΡΙΤΗ 30 ΜΑΪΟΥ 2000
ΕΞΕΤΑΖΟΜΕΝΟ ΜΑΘΗΜΑ
ΘΕΤΙΚΗΣ ΚΑΤΕΥΘΥΝΣΗΣ :
ΧΗΜΕΙΑ

ΘΕΜΑ 1ο

Στις ερωτήσεις 1.1 έως 1.3, να γράψετε στο τετράδιό σας τον αριθμό της ερώτησης και δίπλα το γράμμα που αντιστοιχεί στη σωστή απάντηση.

1.1. Να βρείτε ποιο από τα ακόλουθα σύνολα δεσμών αντιστοιχεί στο μόριο $\text{CH}_3 - \text{C} \equiv \text{C} - \text{CH}_3$:

- α. 3σ, 1π
- β. 8σ, 1π
- γ. 9σ, 2π
- δ. 3σ, 2π

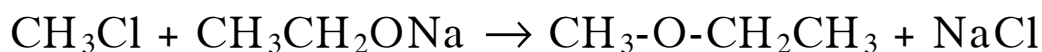
Μονάδες 5

1.2. Ένα υδατικό διάλυμα είναι βασικό στους 25 °C, όταν:

- α. $[\text{OH}^-] > [\text{H}_3\text{O}^+]$
- β. $[\text{OH}^-] < [\text{H}_3\text{O}^+]$
- γ. $\text{pH} < 7$
- δ. $\text{pOH} > 7$

Μονάδες 5

1.3. Η αντίδραση



χαρακτηρίζεται ως:

- α. αντίδραση αποικοδόμησης
- β. αντίδραση πυρηνόφιλης υποκατάστασης
- γ. αντίδραση ηλεκτρονιόφιλης προσθήκης
- δ. αντίδραση πυρηνόφιλης προσθήκης.

Μονάδες 5

1.4. Να μεταφέρετε στο τετράδιό σας τις παρακάτω προτάσεις, συμπληρώνοντας τα κενά με τις κατάλληλες λέξεις:

- α. Η διαδικασία σχηματισμού ιόντων κατά τη διάλυση μοριακών ενώσεων στο H_2O , ονομάζεται
- β. Ουσίες, όπως το H_2O , που μπορούν να δρουν είτε ως οξέα είτε ως βάσεις, ονομάζονται

Μονάδες 5

1.5. Να μεταφέρετε στο τετράδιό σας τον παρακάτω πίνακα συμπληρωμένο κατάλληλα:

	α	β	γ	δ	ε
Συζυγές οξύ		$HCOOH$	NH_4^+		H_2O
Συζυγής βάση	ClO^-			H_2O	

Μονάδες 5

ΘΕΜΑ 2ο

2.1. Δίνονται τα στοιχεία H, O, Cl που έχουν ατομικούς αριθμούς 1, 8, 17, αντίστοιχα.

- α. Να γράψετε τις ηλεκτρονιακές δομές (στιβάδες, υποστιβάδες) των παραπάνω στοιχείων στη θεμελιώδη κατάσταση και να αναφέρετε ονομαστικά τις αρχές και τον κανόνα της ηλεκτρονιακής δόμησης.

Μονάδες 6

- β. Να γράψετε τον ηλεκτρονιακό τύπο κατά Lewis του χλωριώδους οξέος ($HClO_2$).

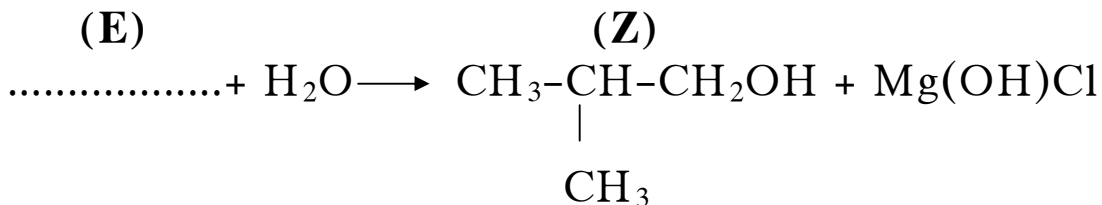
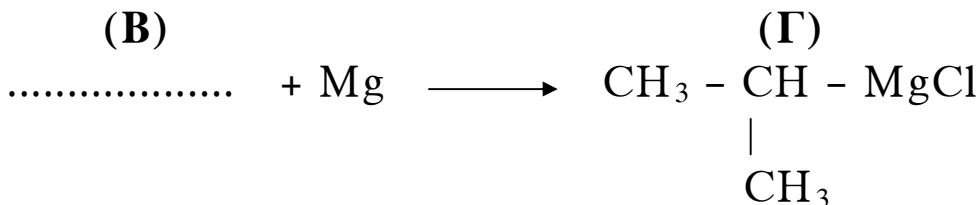
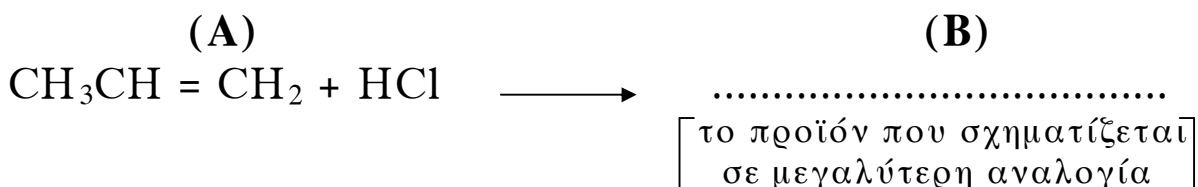
Μονάδες 5

2.2. Υδατικό διάλυμα μεθανικού οξέος (HCOOH) αραιώνεται με νερό σε σταθερή θερμοκρασία.

Πώς μεταβάλλεται ο βαθμός ιοντισμού του HCOOH με την αραιώση; Να δικαιολογήσετε την απάντησή σας (θεωρείται ότι ισχύουν οι προσεγγιστικοί τύποι).

Μονάδες 5

2.3. Να μεταφέρετε στο τετράδιό σας σωστά συμπληρωμένες τις παρακάτω χημικές εξισώσεις:



Μονάδες 9

ΘΕΜΑ 3ο

4,48 L αερίου αιθενίου, μετροημένα σε κανονικές συνθήκες (stp), διοχετεύονται σε Η₂O (σε όξινο περιβάλλον) και παράγεται η οργανική ένωση (Α). Η ένωση (Α) απομονώνεται και η ποσότητά της χωρίζεται σε δύο ίσα μέρη (I) και (II).

α. Στο (I) μέρος της ένωσης (Α) προστίθεται ισομοριακή ποσότητα SOCl₂. Να υπολογίσετε τον όγκο των ανόργανων αερίων προϊόντων της αντίδρασης σε κανονικές συνθήκες (stp).

Μονάδες 12

β. Το (II) μέρος της ένωσης (Α) θερμαίνεται και αντιδρά πλήρως με αλκαλικό διάλυμα ιωδίου (I₂/NaOH), οπότε σχηματίζεται κίτρινο ίζημα.

β.1. Να γράψετε αναλυτικά τα στάδια και τη συνολική αντίδραση της ένωσης (Α) με το αλκαλικό διάλυμα ιωδίου.

Μονάδες 8

β.2. Να υπολογίσετε τη μάζα του ιζήματος.

Μονάδες 5

Όλες οι αντιδράσεις θεωρούνται ποσοτικές. Δίνονται τα ατομικά βάρη: H: 1, C: 12, I: 127.

ΘΕΜΑ 4ο

Υδατικό διάλυμα αιθανικού νατρίου (CH_3COONa) $0,1\text{M}$ όγκου 2 L (διάλυμα Δ_1) έχει $\text{pH}=9$.

α. Να υπολογίσετε τη σταθερά ιοντισμού K_a του αιθανικού οξέος.

Μονάδες 8

β. Στο 1 L από το διάλυμα Δ_1 προστίθενται 99 L νερού, οπότε προκύπτει το διάλυμα Δ_2 . Να υπολογίσετε το pH του διαλύματος Δ_2 .

Μονάδες 8

γ. Στο υπόλοιπο 1 L από το διάλυμα Δ_1 διαλύονται $0,05\text{ mol}$ υδροχλωρίου (HCl), χωρίς να μεταβληθεί ο όγκος του διαλύματος, οπότε προκύπτει το διάλυμα Δ_3 . Να υπολογίσετε το pH του διαλύματος Δ_3 .

Μονάδες 9

Όλα τα παραπάνω διαλύματα βρίσκονται σε θερμοκρασία $25\text{ }^\circ\text{C}$. Δίνεται: $K_w=10^{-14}$.